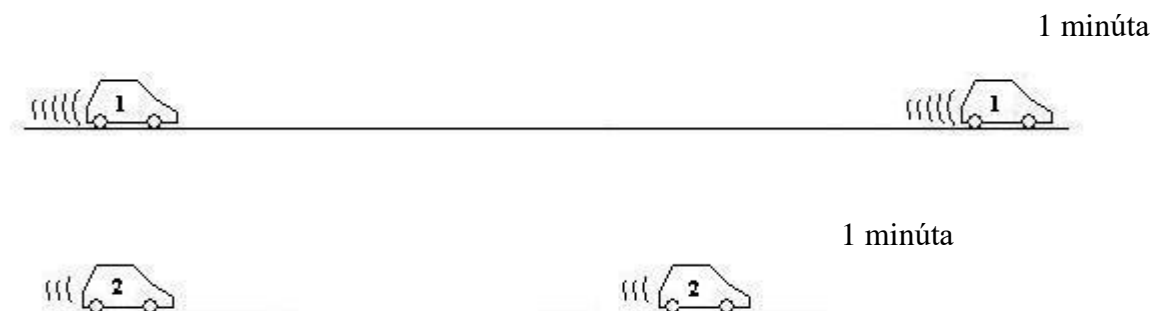


# Pracovný list z fyziky

Meno \_\_\_\_\_

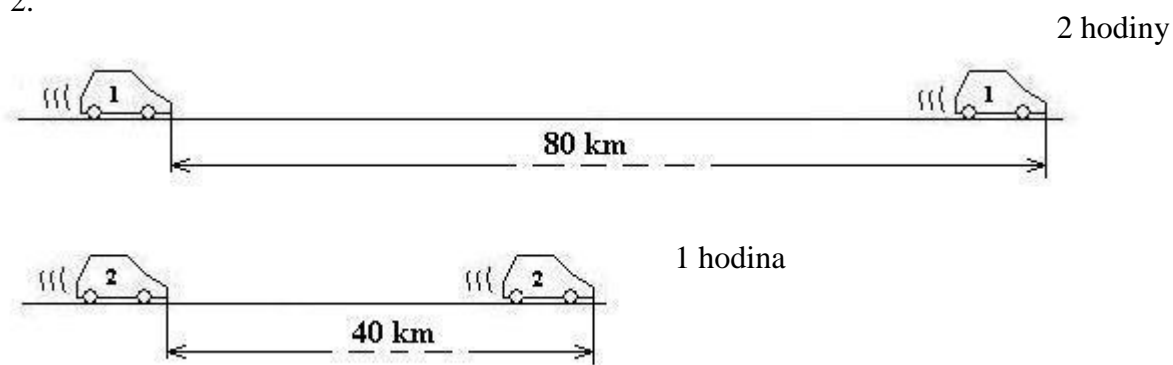
8.ročník

1.



Automobily sa pohybujú rovnomerným pohybom. Ktorý automobil sa pohybuje väčšou rýchlosťou ?

2.




Vyber správnu odpoveď:

- a) väčšou rýchlosťou sa pohybuje automobil 1
- b) väčšou rýchlosťou sa pohybuje automobil 2
- c) automobily sa pohybujú rovnakou rýchlosťou

3.

2 hodiny

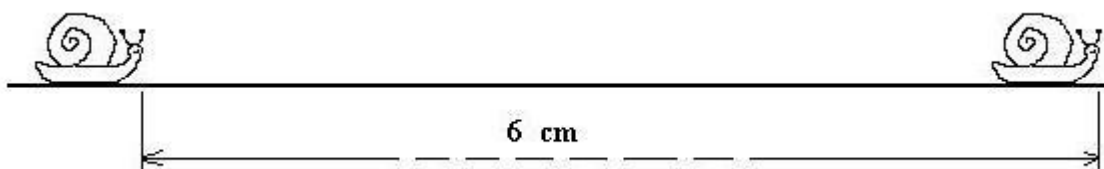
2 hodiny



Akou rýchlosťou sa loď pohybovala :  $20 \frac{km}{h}$ ,  $30 \frac{km}{h}$ , alebo  $60 \frac{km}{h}$  ?

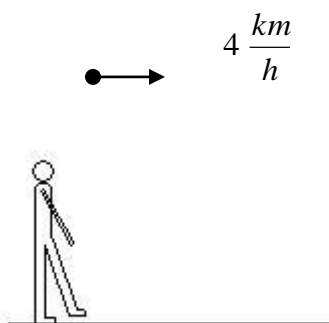
4.

2 minúty



Akou rýchlosťou sa slimák pohyboval :  $2 \frac{cm}{min}$ ,  $3 \frac{cm}{min}$ , alebo  $6 \frac{cm}{min}$  ?

5.



Čo znamená údaj :

Chodec sa pohybuje rýchlosťou  $4 \frac{km}{h}$  ;

Vyber správnu odpoveď :

- a) 1 km prejde za 4 hodiny
- b) 4 km prejde za 4 hodiny
- c) 4 km prejde za 1 hodinu