

16.3.2020

1. Prepíš príklady pod seba a vypočítaj:

30+30=

60 + 7 =

29 + 3 =

87 - 2 =

44 + 8 =

54 + 33 =

25 + 49 =

70- 20 =

62 -27 =

2. Drak má 33 hláv. Artur do neho sekol 21 krát a Juraj 10 krát. Podarilo sa im draka poraziť?

Artur.....krát

Juraj.....krát

Spolu.....?

Výpočet:.....

Skúška:

Arturovi a Jurajovi sa draka poraziť.

3. Kristián dostal vreckové 56 eur. Kúpil si loptu za 27 eur. Koľko eur mu ostalo?

Dostal.....eur

Lopta.....eur

Ostalo.....?

Výpočet:.....

Skúška:

Ostalo mu eur.

17.3.2020 Vypočítaj!

Vyfarbi podľa farby výsledkov

80+7 =

70+6 =

20+9 =

90+1 =

50+3 =

30+1 =

40+4 =

10+9 =

60+7 =

20+5 =

80+8 =

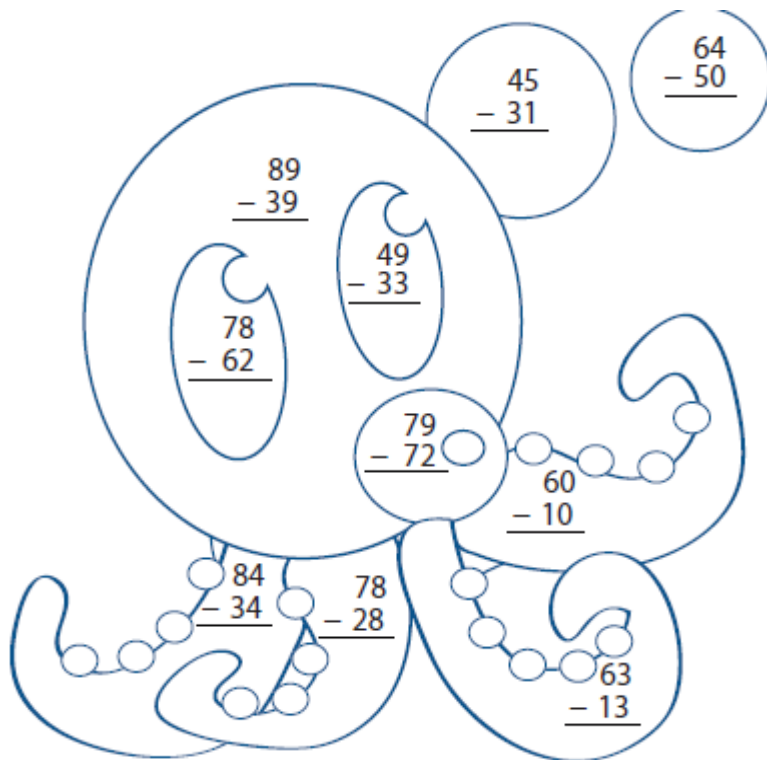
90+5 =

60+40=

10+90=

80-70=

90-60=



Answer = 16 14 50 7

Color = black blue purple pink

16 – čierna 14 - modrá

50 – fialová 7- ružová

18.3.2020 Vypočítaj!

Vyfarbi podľa farby výsledkov

73+6 =

24+3 =

33+2 =

92+0 =

41+8 =

12+1 =

67+1 =

21+6 =

27+1 =

57+2 =

48+1 =

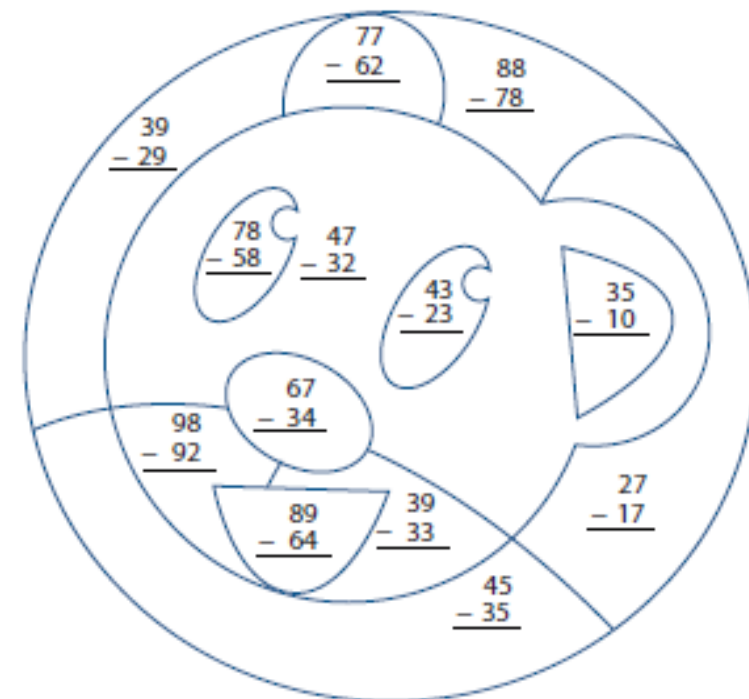
37+1 =

55+2 =

42+7 =

36+6 =

62+9 =



Answer = 15 20 33 6 25 10

Color = brown blue red yellow pink orange

19.3.2020 Vypočítaj!

1. JANKO ZJEDOL 10 BUCHIET. KUBKO ZJEDOL O 3 BUCHTY VIAC. KOĽKO BUCHIET ZJEDOL KUBKO? Koľko ich zjedli spolu?

.....

Kubko zjedol buchiet. Spolu zjedli buchiet.

2. ZUZKA BÝVA V PANELÁKU NA 9. POSCHODÍ. ANIČKA BÝVA O 2 POSCHODIA NIŽŠIE. NA KTOROM POSCHODÍ BÝVA ANIČKA?

.....

Anička býva na poschodí.

3. Maťko si kúpil 12 žuvačiek a 4 lízanky. Koľko sladkostí si kúpil Maťko?

.....

Anička býva na poschodí.

4. Mária dostala na narodeniny 15 eur od ocka a 4 eura od mamky. Koľko eur dostala Mária?

.....

Anička býva na poschodí.

5. Bruno vypočítal v škole 13 príkladov a doma vypočítal 7 príkladov. Koľko príkladov vypočítal spolu?

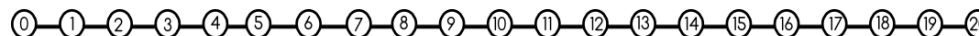
.....

Anička býva na poschodí.

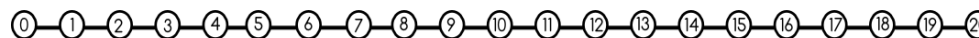
20.3.2020 Vypočítaj!

NAKRESLI ŠÍPKU, KTORÝM SMEROM BUDEŠ KRESLIŤ OBLÚČIKY NA OSI. NAKRESLI SPRÁVNY POČET OBLÚČIKOV. NAPIŠ VÝSLEDOK PRÍKLADU.

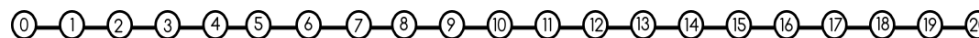
$19 - 8 =$



$12 - 4 =$



$17 - 5 =$



2. Vypočítaj slovné úlohy

Kristián má 7 nových zošitov. Viki ich má o 3 MENEJ. Koľko má Viki zošitov? Koľko ich majú spolu?

.....

Viki mázošitov. Spolu majú zošitov.

Viki vyrobila cez deň 3 náramky. Timea vyrobila o 2 náramky VIAC. Koľko náramkov vyrobila Timi? Koľko ich vyrobili spolu?

.....

Timea má náramkov. Spolu vyrobili náramkov.